





ВАРИАНТ 3





1 На какой картинке изображена весна?

- 1) 
 3) 
- 2) 
 4) 





2 Сколько дней в неделе?

- 1) 3 дня
 3) 7 дней
- 2) 5 дней
 4) 10 дней

3 Какая птица является домашней?

- 1) 
 3) 
- 2) 
 4) 

4 Как растёт одуванчик? Установи последовательность.

- 1) 
 2) 
 3) 
 4) 
- 1) 1 → 2 → 3 → 4
 2) 1 → 4 → 3 → 2
 3) 4 → 3 → 2 → 1
 4) 1 → 3 → 4 → 2

5 Какое явление природы изображено на рисунке?







- 1) снегопад
 3) радуга
- 2) град
 4) молния

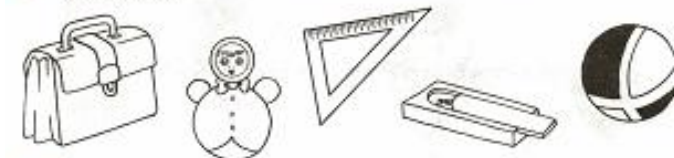
6 Люди какой профессии строят дома?

- 1) кондитер
 3) строитель
- 2) писатель
 4) ветеринар

7 Укажи полицейскую машину.

- 1) 
 3) 
- 2) 
 4) 


8 Обведи предметы, которые не относятся к школьным принадлежностям.



9 Обведи предметы, которые необходимы садоводу для работы в огороде.







10 Наступила зима. Серёжа сделал кормушку для птиц. Какие птицы могут прилететь в птичью столовую? Покажи стрелками.







ВАРИАНТ 8

1 Какой предмет создан природой?

- 1) 
 3) 
 2) 
 4) 

2 На каком рисунке изображена ветка хвойного дерева?

- 1) 
 3) 
 2) 
 4) 





3 С какого месяца начинается год?

- 1) сентябрь
 3) декабрь
 2) март
 4) январь





4 Люди какой профессии учат в школе детей?

- 1) врач
 3) продавец
 2) учитель
 4) строитель





5 На каком рисунке изображена деревня?

- 1) 
 3) 
 2) 
 4) 


6 Из какой ягоды делают виноградный сок?

- 1) 
 3) 
 2) 
 4) 

7 Какое животное всю зиму спит в берлоге?

- 1) 
 3) 
 2) 
 4) 

8 Обведи животных одной группы.



9 Обведи бытовые электроприборы.



10 Соотнеси картинки с временами года. Покажи стрелками.



ЗИМА



ОСЕНЬ







ВАРИАНТ 9


1 На каком рисунке изображено насекомое?

- 1) 
 3) 
 2) 
 4) 

2 На каком рисунке изображён кустарник?

- 1) 
 3) 
 2) 
 4) 

3 Какая рыба не может жить в домашнем аквариуме?

- 1) 
 3) 
 2) 
 4) 

4 В какой группе перечислено время суток?

- 1) октябрь, ноябрь, декабрь
 2) зима, весна, лето, осень
 3) среда, пятница, суббота
 4) утро, день, вечер, ночь

5 Укажи последовательность событий.

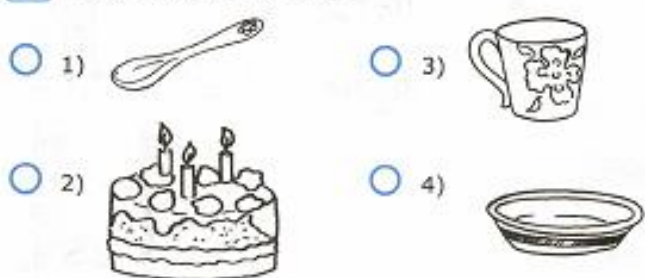


- 1) 3 → 1 → 2 → 4
 2) 3 → 2 → 4 → 1
 3) 4 → 3 → 1 → 2
 4) 3 → 4 → 2 → 1

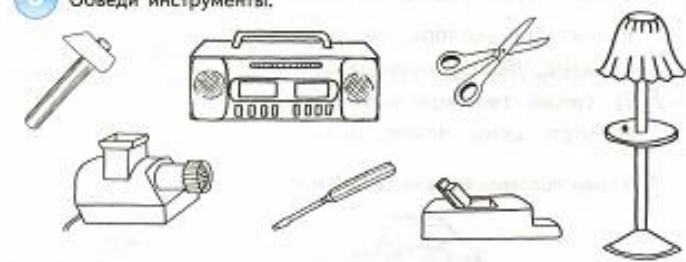
6 Какую службу можно вызвать по номеру телефона 102?

- 1) пожарную охрану
 3) полицию
 2) скорую помощь
 4) службу газа

7 Укажи «лишний» предмет.



8 Обведи инструменты.



9 Обведи животных, которые живут в море.



10 Соотнеси картинки с временами года. Покажи стрелками.



