

ВАРИАНТ 1

1 На какой картинке изображена осень?

1)



3)



2)



4)



2 В какой группе перечислены времена года?

- 1) понедельник, вторник, среда
 2) январь, февраль, март
 3) зима, весна, лето, осень
 4) день, вечер, ночь, утро

3 Какой гриб относится к съедобным?

1)



3)



2)





4)



4 На какой сигнал светофора следует переходить улицу?

- 1) на красный 3) на зелёный
 2) на жёлтый 4) на любой

5 Какое животное живёт в муравейнике?

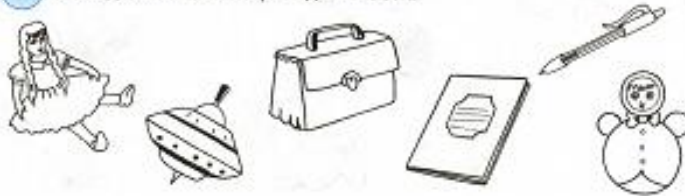
- 1)  3) 
 2)  4) 

6 Как растёт подсолнух? Установи последовательность.







- 1) 2 → 1 → 4 → 3
 2) 1 → 2 → 4 → 3
 3) 1 → 2 → 3 → 4
 4) 3 → 1 → 4 → 2


7 Обведи школьные принадлежности.



8 Укажи машину скорой помощи.

- 1)  3) 
 2)  4) 

9 Обведи водоплавающих птиц.







10 Карслон решил сварить компот, а Мальвина — борщ. Какие продукты им потребуются? Проведи стрелки от продуктов к кастрюлям.







ВАРИАНТ 2

1 На какой картинке изображена птица?

- 1) 
 3) 
 2) 
 4) 

2 Какой гриб является ядовитым?

- 1) 
 3) 
 2) 
 4) 

3 В какой группе перечислены летние месяцы?





- 1) июнь, июль, август
 2) март, апрель, май
 3) сентябрь, октябрь, ноябрь
 4) декабрь, январь, февраль

4 Укажи последовательность событий.



- 1) 1 → 4 → 2 → 3
 2) 4 → 2 → 1 → 3
 3) 3 → 1 → 2 → 4
 4) 4 → 1 → 3 → 2

5 Какое животное живёт в дупле дерева?

- 1) 
 3) 
 2) 
 4) 

6 По какому номеру телефона нужно позвонить, чтобы вызвать эту машину?



- 1) телефон 101
 3) телефон 103
 2) телефон 102
 4) телефон 104

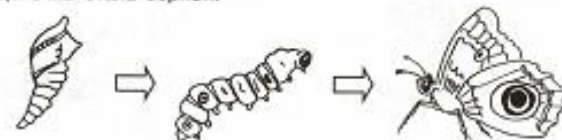
7 Люди какой профессии разносят газеты, письма, журналы?

- 1) космонавт
 3) почтальон
 2) повар
 4) врач

8 Обведи игрушки.


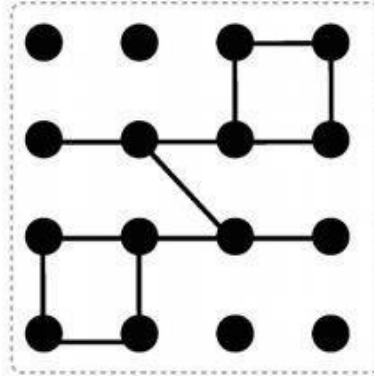

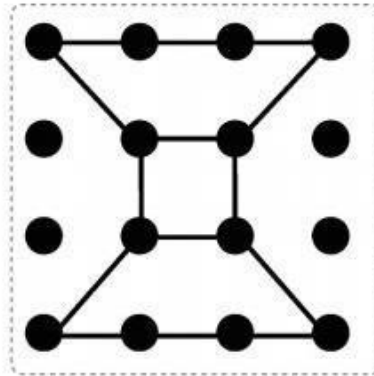

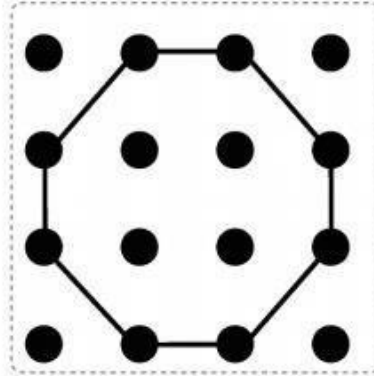

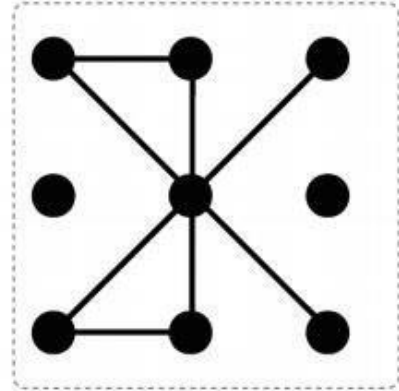

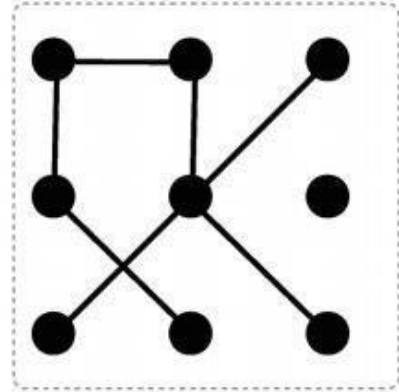

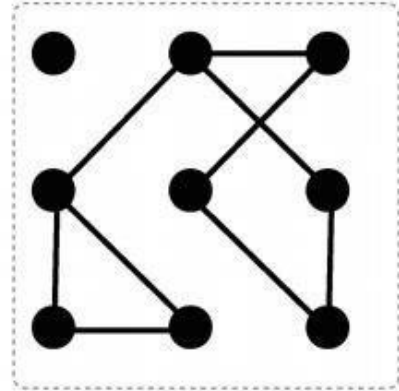


9 Обведи предметы, которые нужно поменять местами, чтобы цепочка стала верной.



10 Помоги мальчикам одеться: Диме — в школу, Саше — на спортивную площадку. Покажи стрелками.





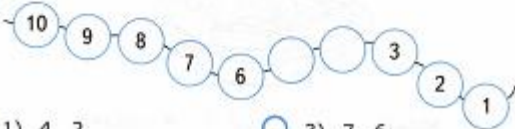
ВАРИАНТ 2

1 Сколько ягод на рисунке?



- 1) 5 ягод 3) 7 ягод
 2) 6 ягод 4) 8 ягод

2 Какие числа пропущены?



- 1) 4, 2 3) 7, 6
 2) 5, 1 4) 5, 4

3 Сколько месяцев в году?

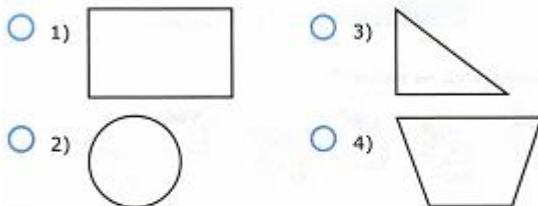
- 1) 6 месяцев 3) 12 месяцев
 2) 10 месяцев 4) 11 месяцев

4 Каких предметов на рисунке меньше и на сколько?



- 1) бабочки на 2 3) бабочки на 3
 2) пчелы на 6 4) пчелы на 3

5 Найди и отметь прямоугольник.

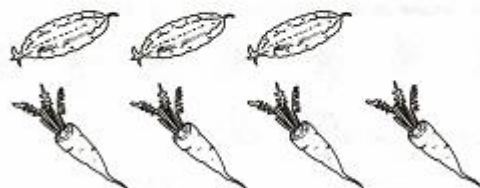


6 Сколько ещё нужно испечь пирожков, чтобы их стало 7?



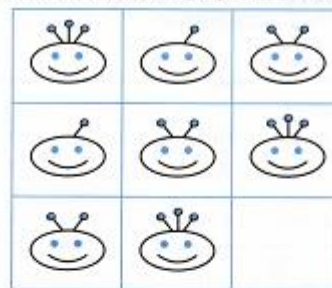
- 1) 2 пирожка 3) 4 пирожка
 2) 3 пирожка 4) 1 пирожок

7 Как правильно выполнить запись, чтобы ответить на вопрос? Бабушка сорвала 3 огурца, а внучка — 4 морковки. Сколько всего овощей сорвали бабушка и внучка?



- 1) $7 - 3 = 4$ 3) $7 - 4 = 3$
 2) $3 + 4 = 7$ 4) $5 + 2 = 7$

8 Определи закономерность. Нарисуй недостающую фигуру.



9 Реши пример. Обведи парашют, который приземлится на эту площадку.



$$10 - 7$$

10 Раскрась жёлтым цветом фигуру, которая расположена между двумя другими.

